

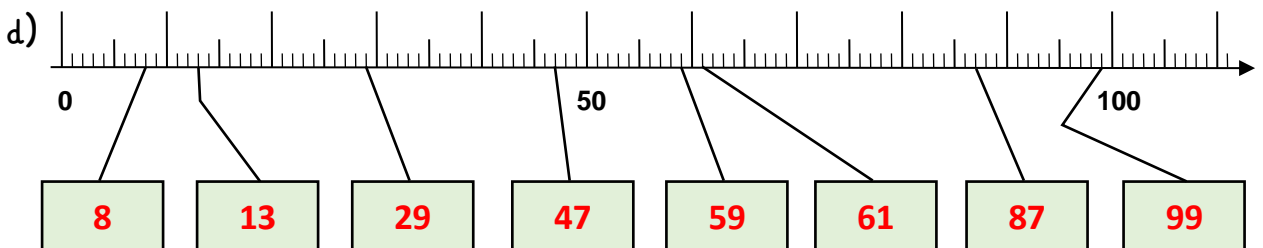
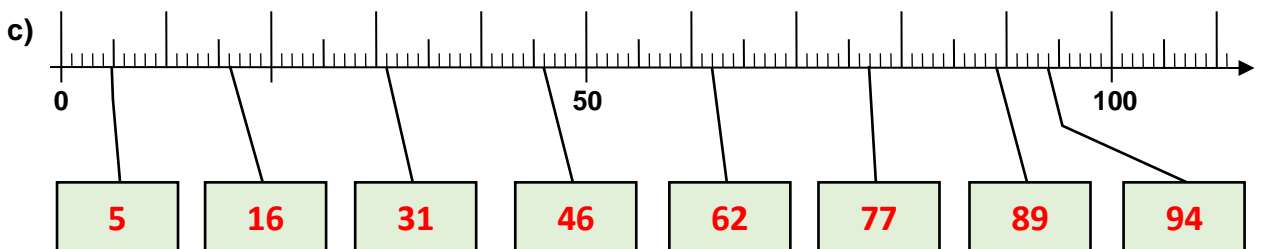
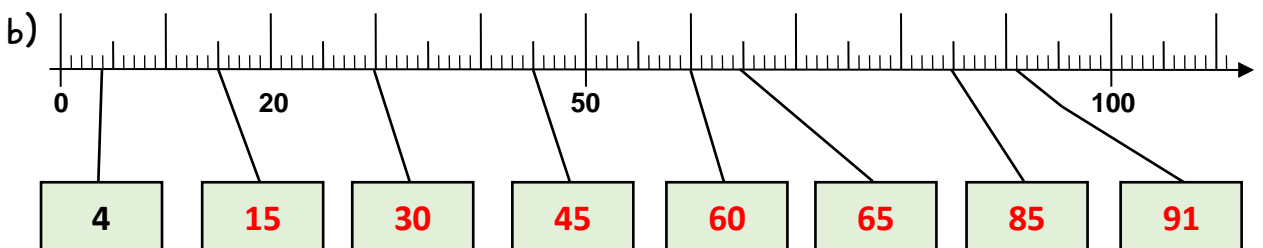
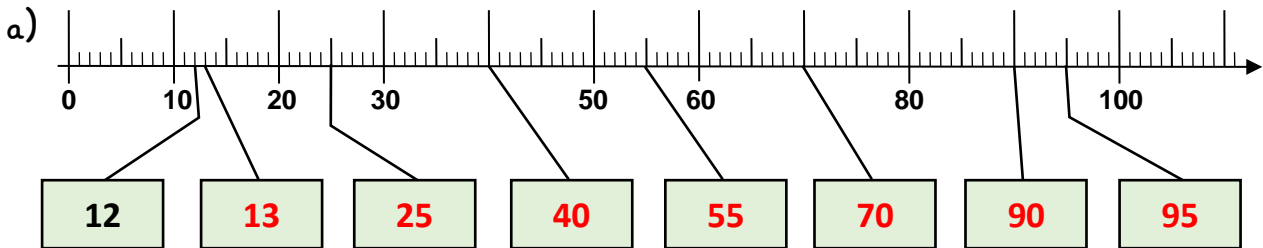
Name:

Klasse:

Datum:

Die Zahlen bis 100

1. Trage die Zahlen in die Kästen ein.



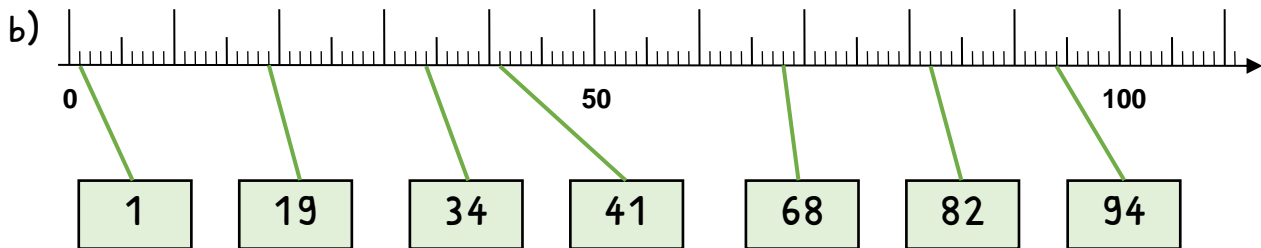
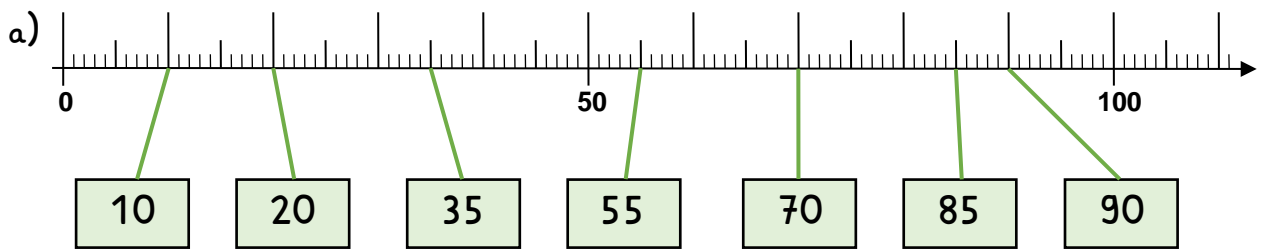
2. Trage die Nachbarzahlen und Nachbarzehner ein.

Nachbarzahlen		
11	12	13
24	25	26
30	31	32
98	99	100
49	50	51

Nachbarzehner		
40	46	50
60	62	70
20	29	30
80	87	90
90	99	100



3. Verbinde die Kästen mit den passenden Stellen am Zahlenstrahl.



4. Ergänze zur nächsten Zehnerzahl. Nimm den Zahlenstrahl zur Hilfe.

a) $35 + \underline{5} = \underline{40}$

b) $85 + \underline{5} = \underline{90}$

$19 + \underline{1} = \underline{20}$

$68 + \underline{2} = \underline{70}$

$55 + \underline{5} = \underline{60}$

$82 + \underline{8} = \underline{90}$

$34 + \underline{6} = \underline{40}$

$94 + \underline{6} = \underline{100}$

$41 + \underline{9} = \underline{50}$

$78 + \underline{2} = \underline{80}$

5. Zähle vorwärts und rückwärts in Schritten. Der Zahlenstrahl hilft dir.

a) 0, 10, 20, 30, 40, 50, 60, 70, 80, 90, 100

b) 0, 5, 10, 15, 20, 25, 30, 35, 45, 50, 55

c) 20, 21, 22, 23, 24, 25, 26, 27, 28, 29, 30

d) 50, 51, 52, 53, 54, 55, 56, 57, 58, 59, 60

e) 20, 24, 26, 28, 30, 32, 34, 36, 38, 40, 42

f) 30, 31, 32, 33, 34, 35, 36, 37, 38, 39, 40

g) 30, 32, 34, 36, 38, 40, 42, 44, 46, 48, 50

