

Name:

Klasse:

Datum:

Schriftliche Multiplikation 2

1. Vergleiche die schriftliche Rechnung mit der halbschriftlichen.

a) Erkläre, warum eine kleine **blaue 3** über dem Zehner steht. Markiere rechts die Zahl, die mit der blauen 3 links gemeint ist.

b) Rechne die Aufgabe zu Ende.

	3			
2	0	8	.	4
				2

$208 \cdot 4 =$	<u> </u>
$8 \cdot 4 =$	32
$0 \cdot 4 =$	0
$200 \cdot 4 =$	800


2. Verbinde jede schriftliche Aufgabe mit der passenden halbschriftlichen Aufgabe. Rechne anschließend aus.


2	4	5	.	3


1	4	6	.	6


6	5	9	.	3

4	6	8	.	6

	<u> </u>
$6 \cdot 6 =$	
$40 \cdot 6 =$	
$100 \cdot 6 =$	

	<u> </u>
$9 \cdot 3 =$	
$50 \cdot 3 =$	
$600 \cdot 3 =$	

	<u> </u>
$8 \cdot 6 =$	
$60 \cdot 6 =$	
$400 \cdot 6 =$	

	<u> </u>
$5 \cdot 3 =$	
$40 \cdot 3 =$	
$200 \cdot 3 =$	

3. Rechne aus.

<u>2 4 8 . 4</u>	<u>1 0 6 . 5</u>	<u>5 7 0 . 9</u>	<u>3 8 6 . 8</u>
<u>4 0 7 . 6</u>	<u>8 2 9 . 8</u>	<u>9 0 6 . 9</u>	<u>7 0 8 . 7</u>



